

1-2-3-4-5-6-7-8-9-10


Hoeveel diamanten op de kroon?
Trek een lijn naar het goede cijfer.



1




3



5



7



6



2

Kleur het juiste aantal kronen.

5




2



7



1



4



3



6



8

